



『消防設備士第4類 令和5年下巻』に関するお詫びと訂正のご案内

『消防設備士第4類 令和5年下巻』の内容について誤りがありました。以下の通り訂正致しますので、お手持ちの本書に加筆訂正をお願い申し上げます。

ご迷惑をおかけ致しまして誠に申し訳ございません。心よりお詫び申し上げます。

令和5年1月 (株)公論出版 編集部

初 版

<p>P146 【4】</p> <p>誤</p>	<p>【4】 下の写真は事務所の用途に供される防火対象物に設置された自動火災報知設備の機器収容箱の一例である。次の各設問に答えなさい。</p>  <p>□ 1. 矢印A～Cに示す機器のうち、機能により1級と2級に区分される機器を記号で答えなさい。また、その名称を答えなさい。 2. 各階に、その階の各部分から一の矢印Cに示す機器までの距離として、どのように設けることとされているか答えなさい。</p>
<p>正</p> <p>更新： [2023.01]</p>	<p>【4】 下の写真は事務所の用途に供される防火対象物に設置された自動火災報知設備の機器収容箱の一例である。次の各設問に答えなさい。</p>  <p>□ 1. 矢印A～Cに示す機器のうち、機能により1級と2級に区分される機器を記号で答えなさい。また、その名称を答えなさい。 2. 各階に、その階の各部分から一の矢印Cに示す機器までの距離として、どのように設けることとされているか答えなさい。</p>

P176 【4】

誤

【4】下の写真は、消防用設備等の一部を示したものである。次の各設問に答えなさい。



- 1. この設備の名称を答えなさい。また、矢印Aで示す部分の名称を答えなさい。
- 2. この設備について述べた次の文中の（ ）に当てはまる語句を答えなさい。
～省略～

正

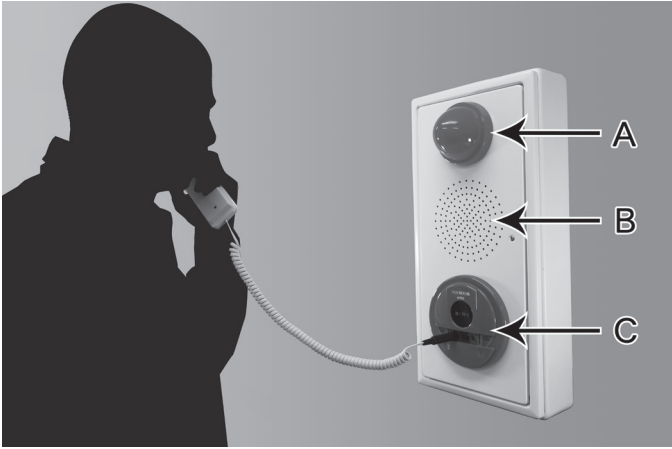

【4】下の写真は、消防用設備等の一部を示したものである。次の各設問に答えなさい。



- 1. この設備の名称を答えなさい。また、矢印Aで示す部分の名称を答えなさい。
- 2. この設備について述べた次の文中の（ ）に当てはまる語句を答えなさい。
～省略～

更新：
[2023.01]

※ 146・176 ページの訂正内容を、お手持ちの書籍に反映されたい場合は、以下を点線で切り取り、該当箇所に貼り付けてください。

P146	 <p>A black and white photograph of a person in silhouette using a public payphone. The payphone is a vertical, rectangular unit. Three arrows point to specific components: 'A' points to the top circular receiver, 'B' points to the middle circular speaker grille, and 'C' points to the bottom circular coin slot. A coiled handset cord is connected to the bottom of the unit.</p>
P176	 <p>A photograph of a public payphone. On the left is a handset with a coiled cord. On the right is the main payphone unit, which has a coin slot and a display area. An arrow labeled 'A' points to the coin slot. The brand name 'NACHI' is visible on the front panel.</p>