

令和2年度 第2回（令和3年3月実施）

運行管理者試験問題（旅客）

- ・問題は全30問です。
- ・問題の内容は基本的に出題時のままになっています。
- ・解説の法令は令和2年度第2回（令和3年3月）実施日の内容となっています。
- ・このデータの著作権は放棄していません。再配布、販売等は認めておりません。

1. 道路運送法関係

問 1 一般旅客自動車運送事業者（以下「事業者」という。）の事業計画の変更等に関する次の記述のうち、正しいものを2つ選びなさい。なお、解答にあたっては、各選択肢に記載されている事項以外は考慮しないものとする。

1. 路線定期運行を行う一般乗合旅客自動車運送事業者の路線（路線定期運行に係るものに限る。）の休止又は廃止に係る変更をしようとするときは、国土交通大臣の認可を受けなければならない。
2. 事業者は、「自動車車庫の位置及び収容能力」の事業計画の変更をしようとするときは、国土交通大臣の認可を受けなければならない。
3. 事業者は、「営業所ごとに配置する事業用自動車の数」の事業計画の変更をしたときは、遅滞なく、その旨を国土交通大臣に届け出なければならない。
4. 一般貸切旅客自動車運送事業者は、「営業所の名称」の変更をしたときは、遅滞なく、その旨を国土交通大臣に届け出なければならない。

問 2 次の記述のうち、旅客自動車運送事業の運行管理者の行わなければならない業務として、誤っているものを1つ選びなさい。なお、解答にあたっては、各選択肢に記載されている事項以外は考慮しないものとする。

1. 運転者に対して、法令の規定により点呼を行い、報告を求め、確認を行い、及び指示をしたときは、運転者ごとに点呼を行った旨、報告、確認及び指示の内容並びに法令で定める所定の事項を記録し、かつ、その記録を1年間保存すること。
2. 一般貸切旅客自動車運送事業の運行管理者にあつては、法令の規定による運行指示書を作成し、かつ、これにより事業用自動車の運転者に対し適切な指示を行い、当該運転者に携行させ、及びその保存をすること。
3. 事業用自動車非常信号用具、非常口又は消火器を備えたものであるときは、当該事業用自動車の乗務員に対し、これらの器具の取扱いについて適切な指導を行うこと。
4. 過労の防止を十分考慮して、国土交通大臣が告示で定める基準に従って、事業用自動車の運転者の勤務時間及び乗務時間を定め、当該運転者にこれらを遵守させること。

問 3 旅客自動車運送事業運輸規則に定める旅客自動車運送事業者の過労防止についての次の文中、A、B、C、Dに入るべき字句としていずれか正しいものを1つ選びなさい。

1. 旅客自動車運送事業者は、事業計画（路線定期運行を行う一般乗合旅客自動車運送事業者にあつては、事業計画及び運行計画）の遂行に十分な数の事業用自動車の運転者を常時選任しておかなければならない。この場合、事業者（個人タクシー事業者を除く。）は、日日雇い入れられる者、（A）以内の期間を定めて使用される者及び試みの使用期間中の者（14日を超えて引き続き使用されるに至った者を除く。）を当該運転者として選任してはならない。
2. 旅客自動車運送事業者は、乗務員に国土交通大臣が告示で定める基準による1日の勤務時間中に当該乗務員の属する営業所で勤務を終了することができない運行を指示する場合は、当該乗務員が有効に利用することができるように、勤務を終了する場所の付近の適切な場所に睡眠に必要な施設を整備し、又は確保し、並びにこれらの施設を（B）しなければならない。
3. 旅客自動車運送事業者は、乗務員の（C）に努め、疾病、疲労、睡眠不足その他の理由により安全な運転をすることができないおそれがある乗務員を事業用自動車に乗務させてはならない。
4. 一般貸切旅客自動車運送事業者は、運転者が長距離運転又は夜間の運転に従事する場合であつて、（D）により安全な運転を継続することができないおそれがあるときは、あらかじめ、交替するための運転者を配置しておかなければならない。

- | | | |
|---|----------------|---------------|
| A | ① 1ヵ月 | ② 2ヵ月 |
| B | ① 維持するための要員を確保 | ② 適切に管理し、及び保守 |
| C | ① 運転履歴の把握 | ② 健康状態の把握 |
| D | ① 疲労等 | ② 酒気帯び |

問 4 旅客自動車運送事業の事業用自動車の運転者（以下「運転者」という。）に対する点呼に関する次の記述のうち、正しいものをすべて選びなさい。なお、解答にあたっては、各選択肢に記載されている事項以外は考慮しないものとする。

1. 点呼は、運行管理者と運転者が対面で行うこととされているが、運行上やむを得ない場合は電話その他の方法によることも認められている。一般貸切旅客自動車運送事業において、営業所と離れた場所にある当該営業所の車庫から乗務を開始する運転者については、運行上やむを得ない場合に該当しないことから、電話による点呼を行うことはできない。
2. 運転者が所属する営業所において、対面により乗務前の点呼を行う場合は、法令の規定により酒気帯びの有無について、運転者の顔色、呼気の臭い、応答の声の調子等を目視等により確認するほか、当該営業所に備えられたアルコール検知器を用いて確認を行わなければならない。
3. 一般貸切旅客自動車運送事業の運行管理者にあつては、運行指示書上、実車運行する区間の距離が100キロメートルを超える夜間運行を行う事業用自動車に乗務する運転者に対して当該乗務の途中において少なくとも1回電話その他の方法により点呼を行わなければならない。
4. 乗務終了後の点呼においては、「道路運送車両法第47条の2第1項及び第2項の規定による点検（日常点検）の実施又はその確認」について報告を求め、及び確認を行わなければならない。

経公論出版
Copyright © 2018 経公論出版

問 5 自動車事故に関する次の記述のうち、旅客自動車運送事業者が自動車事故報告規則に基づき運輸支局長等に速報を要するものを2つ選びなさい。なお、解答にあたっては、各選択肢に記載されている事項以外は考慮しないものとする。

1. 貸切バスの運転者がハンドル操作を誤り、当該貸切バスが車道と歩道の区別がない道路を逸脱し、当該道路との落差が0.3メートル下の畑に転落した。
2. 乗合バスが、交差点で信号待ちで停車していた乗用車の発見が遅れ、ブレーキをかける間もなく追突した。この事故で、当該乗合バスの乗客6人が14日間医師の治療を要する傷害を受けた。
3. 高速乗合バスが高速道路を走行中、前方に渋滞により乗用車が停車していることに気づくのが遅れ、追突事故を引き起こした。この事故で、当該高速乗合バスの乗客2人が重傷（自動車事故報告規則で定める傷害のものをいう。以下同じ。）を負い、乗用車に乗車していた2人が軽傷を負った。
4. 乗合バスに乗車してきた旅客が着席する前に当該乗合バスが発車したことから、当該旅客のうち1人がバランスを崩して床に倒れ大腿骨を骨折する重傷を負った。

問 6 旅客自動車運送事業者の事業用自動車の運行に係る記録等に関する次の記述のうち、誤っているものを1つ選びなさい。なお、解答にあたっては、各選択肢に記載されている事項以外は考慮しないものとする。

1. 旅客自動車運送事業者は、事業用自動車の運転者が転任、退職その他の理由により運転者でなくなった場合には、直ちに、当該運転者に係る乗務員台帳に運転者でなくなった年月日及び理由を記載し、これを3年間保存しなければならない。
2. 一般貸切旅客自動車運送事業者は、運送を引き受けた場合には、遅滞なく、当該運送の申込者に対して所定の事項を記載した運送引受書を交付しなければならない。また、当該事業者は、この運送引受書の写しを運送の終了の日から1年間保存しなければならない。
3. 一般乗合旅客自動車運送事業者は、事業用自動車の運転者が乗務中に道路交通法に規定する交通事故若しくは自動車事故報告規則に規定する事故又は著しい運行の遅延その他の異常な状態が発生した場合にあっては、その概要及び原因を運転者ごとに「乗務記録」に記録させ、かつ、その記録を1年間保存しなければならない。
4. 一般貸切旅客自動車運送事業者は、法令の規定による運行指示書を作成し、かつ、これにより事業用自動車の運転者に対し適切な指示を行うとともに、当該運行指示書を運行を計画した日から1年間保存しなければならない。

問 7 次の記述のうち、旅客自動車運送事業者の事業用自動車の運転者等が遵守しなければならない事項として、正しいものを2つ選びなさい。なお、解答にあたっては、各選択肢に記載されている事項以外は考慮しないものとする。

1. 一般貸切旅客自動車運送事業者の事業用自動車の運転者は、運行中、所定の事項を記載した運行指示書が当該事業用自動車の運行を管理する営業所に備えられ、電話等により必要な指示が行われる場合にあっては、当該運行指示書の携行を省略することができる。
2. 旅客自動車運送事業者の事業用自動車の運転者は、乗務を終了したときは、交替する運転者に対し、乗務中の当該の自動車、遺路及び運行状況について通告すること。この場介において、乗務する運転者は、当該自動車の制動装置、走行装置その他の重要な部分の機能について異常のおそれがあると認められる場合には、点検をすること。
3. 旅客自動車運送事業者の事業用自動車の運転者は、坂路において事業用自動車から離れるとき及び安全な運行に支障がある箇所を通過するときは、旅客を降車させること。
4. 一般乗合旅客自動車運送事業者の事業用自動車の運転者は、食事若しくは休憩のため運送の引受けをすることができない場合又は乗務の終了等のため車庫若しくは営業所に回送しようとする場合には、回送板を掲出すること。

問 8 一般旅客自動車運送事業者（以下「事業者」という。）の事業用自動車の運行の安全を確保するために、国土交通省告示に基づき運転者に対して行わなければならない指導監督及び特定の運転者に対して行わなければならない特別な指導に関する次の記述のうち、誤っているものを1つ選びなさい。なお、解答にあたっては、各選択肢に記載されている事項以外は考慮しないものとする。

1. 事業者は、高齢運転者に対する特別な指導については、国土交通大臣が認定した高齢運転者のための適性診断の結果を踏まえ、個々の運転者の加齢に伴う身体機能の変化の程度に応じた事業用自動車の安全な運転方法等について運転者が自ら考えるよう指導する。この指導は、当該適性診断の結果が判明した後1ヵ月以内に実施する。
2. 一般貸切旅客自動車運送事業者が貸切バスの運転者に対して行う初任運転者に対する特別な指導は、事業用自動車の安全な運転に関する基本的事項、運行の安全及び旅客の安全を確保するために留意すべき事項等について、10時間以上実施するとともに、安全運転の実技について、20時間以上実施すること。
3. 適齢診断（高齢運転者のための適性診断として国土交通大臣が認定したものをいう。）を運転者が65歳に達した日以後1年以内に1回、その後70歳に達するまでは3年以内ごとに1回、70歳に達した日以後1年以内に1回、その後1年以内ごとに1回受診させること。
4. 一般乗用旅客自動車運送事業者（個人タクシー事業者を除く。）は、運転者として新たに雇入れた者（法令に定める要件に該当する者を除く。）については、国土交通大臣が告示で定めるところにより、営業区域の状態等、事業用自動車の運行の安全を確保するために遵守すべき事項等について、雇入れ後少なくとも10日間の指導、監督及び特別な指導を行い、並びに適性診断を受診させた後でなければ、事業用自動車の運転者として選任してはならない。

2. 道路運送車両法関係

問 9 道路運送車両法の自動車の登録等についての次の記述のうち、誤っているものを1つ選びなさい。なお、解答にあたっては、各選択肢に記載されている事項以外は考慮しないものとする。

1. 登録自動車について所有者の変更があったときは、新所有者は、その事由があった日から15日以内に、国土交通大臣の行う移転登録の申請をしなければならない。
2. 登録自動車の所打者は、当該自動車が滅失し、解体し（整備又は改造のために解体する場合を除く。）、又は自動車の用途を廃止したときは、その事由があった日（使用済自動車の解体である場合には解体報告記録がなされたことを知った日）から15日以内に、永久抹消登録の申請をしなければならない。
3. 自動車登録番号標及びこれに記載された自動車登録番号の表示は、国土交通省令で定めるところにより、自動車登録番号標を自動車の前面及び後面の任意の位置に確実に取り付けることにより行うものとする。
4. 何人も、国土交通大臣若しくは封印取付受託者が取付けをした封印又はこれらの者が封印の取付けをした自動車登録番号標は、これを取り外してはならない。ただし、整備のため特に必要があるときその他の国土交通省令で定めるやむを得ない事由に該当するときは、この限りでない。

経公論出版
Copyright © 2018 経公論出版 All Rights Reserved

問 10 道路運送車両法の自動車の検査等についての次の記述のうち、正しいものを2つ選びなさい。なお、解答にあたっては、各選択肢に記載されている事項以外は考慮しないものとする。

1. 自動車運送事業の用に供する自動車は、自動車検査証を当該自動車又は当該自動車の所属する営業所に備え付けなければ、運行の用に供してはならない。
2. 自動車は、その構造が、長さ、幅及び高さ並びに車両総重量（車両重量、最大積載量及び55キログラムに乗車定員を乗じて得た重量の総和をいう。）等道路運送車両法に定める事項について、国土交通省令で定める保安上又は公害防止その他の環境保全上の技術基準に適合するものでなければ、運行の用に供してはならない。
3. 車両総重量8トン以上又は乗車定員30人以上の自動車の使用者は、スペアタイヤの取付状態等について、1ヵ月ごとに国土交通省令で定める技術上の基準により自動車を点検しなければならない。
4. 自動車検査証の有効期間の起算日については、自動車検査証の有効期間が満了する日の1ヵ月前（離島に使用の本拠の位置を有する自動車を除く。）から当該期間が満了する日までの間に継続検査を行い、当該自動車検査証に有効期間を記入する場合は、当該自動車検査証の有効期間が満了する日の翌日とする。

問 11 道路運送車両法に定める自動車の点検整備等に関する次の文中、A、B、C、Dに入るべき字句としていずれか正しいものを1つ選びなさい。

1. 事業用自動車の使用者は、自動車の点検をし、及び必要に応じ（A）をすることにより、当該自動車を道路運送車両の保安基準に適合するように維持しなければならない。
2. 事業用自動車の使用者又は当該自動車を（B）する者は、1日1回、その（C）において、国土交通省令で定める技術上の基準により、自動車を点検しなければならない。
3. 事業用自動車の使用者は、当該自動車について定期点検整備をしたときは、遅滞なく、点検整備記録簿に点検の結果、整備の概要等所定事項を記載して当該自動車に備え置き、その記載の日から（D）間保存しなければならない。

- A ① 検査 ② 整備
B ① 運行 ② 管理
C ① 運行の開始前 ② 運行の終了後
D ① 1年 ② 2年

問 12 道路運送車両の保安基準及びその細目を定める告示についての次の記述のうち、誤っているものを1つ選びなさい。なお、解答にあたっては、各選択肢に記載されている事項以外は考慮しないものとする。

1. 自動車（二輪自動車等を除く。）の空気入ゴムタイヤの接地部は滑り止めを施したものであり、滑り止めの溝は、空気入ゴムタイヤの接地部の全幅にわたり滑り止めのために施されている凹部（サイピング、プラットフォーム及びウエア・インジケータの部分を除く。）のいずれの部分においても1.6ミリメートル以上の深さを有すること。
2. 乗用車等に備える事故自動緊急通報装置は、当該自動車が衝突等による衝撃を受ける事故が発生した場合において、その旨及び当該事故の概要を所定の場所に自動的かつ緊急に通報するものとして、機能、性能等に関し告示で定める基準に適合するものでなければならない。
3. 路線を定めて定期に運行する一般乗合旅客自動車運送事業用自動車に備える旅客が乗降中であることを後方に表示する電光表示器には、点滅する灯火又は光度が増減する灯火を備えることができる。
4. 自動車に備えなければならない非常信号用具は、夜間150メートルの距離から確認できる赤色の灯光を発するものでなければならない。

3. 道路交通法関係

問 13 道路交通法に定める灯火及び合図等についての次の記述のうち、誤っているものを1つ選びなさい。なお、解答にあたっては、各選択肢に記載されている事項以外は考慮しないものとする。

1. 車両の運転者が同一方向に進行しながら進路を左方又は右方に変えるときの合図を行う時期は、その行為をしようとする地点から30メートル手前の地点に達したときである。
2. 車両の運転者が左折又は右折するときの合図を行う時期は、その行為をしようとする地点（交差点においてその行為をする場合にあつては、当該交差点の手前の側端）から30メートル手前の地点に達したときである。（環状交差点における場合を除く。）
3. 車両は、トンネルの中、濃霧がかかっている場所その他の場所で、視界が高速自動車国道及び自動車専用道路においては200メートル、その他の道路においては50メートル以下であるような暗い場所を通行する場合及び当該場所に停車し、又は駐車している場合においては、前照灯、車幅灯、尾灯その他の灯火をつけなければならない。
4. 停留所において乗客の乗降のため停車していた乗合自動車が発進するため進路を変更しようとして手又は方向指示器により合図をした場合においては、その後方にある車両は、その速度又は方向を急に変更しなければならないこととなる場合を除き、当該合図をした乗合自動車の進路の変更を妨げてはならない。

経公論出版
Copyright © 2018 経公論出版

問 14 道路交通法に定める停車及び駐車等についての次の記述のうち、正しいものを2つ選びなさい。なお、解答にあたっては、各選択肢に記載されている事項以外は考慮しないものとする。

1. 車両は、人の乗降、貨物の積卸し、駐車又は自動車の格納若しくは修理のため道路外に設けられた施設又は場所の道路に接する自動車用の出入口から5メートル以内の道路の部分においては、駐車してはならない。
2. 車両は、法令の規定により駐車しようとする場合には、当該車両の右側の道路上に3メートル（道路標識等により距離が指定されているときは、その距離）以上の余地があれば駐車してもよい。
3. 車両は、交差点の側端又は道路の曲がり角から5メートル以内の道路の部分においては、法令の規定若しくは警察官の命令により、又は危険を防止するため一時停止する場合のほか、停車し、又は駐車してはならない。
4. 車両は、踏切の前後の側端からそれぞれ前後に10メートル以内の道路の部分においては、法令の規定若しくは警察官の命令により、又は危険を防止するため一時停止する場合のほか、停車し、又は駐車してはならない。

問 15 道路交通法に定める自動車の法定速度に関する次の文中、A、B、C、Dに入るべき字句を下の枠内の選択肢（①～⑤）から選びなさい。

1. 自動車の最高速度は、道路標識等により最高速度が指定されていない片側一車線の一般道路においては、(A) である。
2. 自動車の最低速度は、法令の規定によりその速度を減ずる場合及び危険を防止するためやむを得ない場合を除き、道路標識等により自動車の最低速度が指定されていない区間の高速自動車国道の本線車道（政令で定めるものを除く。）においては、(B) である。
3. 貸切バス（乗車定員47名）の最高速度は、道路標識等により最高速度が指定されていない高速自動車国道の本線車道（政令で定めるものを除く。）においては、(C) である。
4. トラック（車両総重量12,000キログラム、最大積載量8,000キログラムであって乗車定員3名）の最高速度は、道路標識等により最高速度が指定されていない高速自動車国道の本線車道（政令で定めるものを除く。）においては、(D) である。

- | | |
|---------------|--------------|
| ① 時速40キロメートル | ② 時速50キロメートル |
| ③ 時速60キロメートル | ④ 時速80キロメートル |
| ⑤ 時速100キロメートル | |

問 16 道路交通法に定める乗車等についての次の記述のうち、誤っているものを1つ選びなさい。なお、解答にあたっては、各選択肢に記載されている事項以外は考慮しないものとする。

1. 車両に乗車する者は、運転者の視野若しくはハンドルその他の装置の操作を妨げ、後写鏡の効用を失わせ、車両の安定を害し、又は外部から当該車両の方向指示器、車両の番号標、制動灯、尾灯若しくは後部反射器を確認することができないこととなるような方法で乗車をしてはならない。
2. 車両等の運転者は、安全を確認しないで、ドアを開き、又は車両等から降りないようにし、及びその車両等に乗車している他の者がこれらの行為により交通の危険を生じさせないようにするため必要な措置を講じなければならない。
3. 自動車の運転者は、高速自動車国道に限り、法令で定めるやむを得ない理由があるときを除き、他の者を運転者席の横の乗車装置以外の乗車装置（当該乗車装置につき座席ベルトを備えなければならないこととされているものに限る。）に乗車させて自動車を運転するときは、その者に座席ベルトを装着させなければならない。
4. 車両等に乗車し、又は乗車しようとしている者が道路交通法第65条第1項（酒気帯び運転等の禁止）の規定に違反して車両等を運転するおそれがあると認められるときは、警察官はその者が正常な運転ができる状態になるまで車両等を運転してはならない旨を指示する等道路における交通の危険を防止するため必要な応急の措置をとることができる。

問 17 道路交通法に定める運転者及び使用者の義務等についての次の記述のうち、正しいものを2つ選びなさい。なお、解答にあたっては、各選択肢に記載されている事項以外は考慮しないものとする。

1. 車両等の運転者は、児童、幼児等の乗降のため、道路運送車両の保安基準に関する規定に定める非常点滅表示灯をつけて停車している通学通園バスの側方を通過するときは、徐行して安全を確認しなければならない。
2. 車両等の運転者は、高齢の歩行者でその通行に支障のあるものが通行しているときは、一時停止し、又は徐行して、その通行を妨げないようにしなければならない。
3. 道路運送法第3条第1号に掲げる一般旅客自動車運送事業の用に供される自動車の運転者が当該事業に係る旅客である幼児を乗車させるときは、幼児用補助装置を使用して乗車させなければならない。
4. 自動車の運転者は、故障その他の理由により高速自動車国道等の本線車道若しくはこれに接する加速車線、減速車線若しくは登坂車線（以下「本線車道等」という。）において当該自動車を運転することができなくなったときは、政令で定めるところにより、当該自動車が故障その他の理由により停止しているものであることを表示しなければならない。ただし、本線車道等に接する路肩若しくは路側帯においては、この限りでない。

4. 労働基準法関係

問 18 労働基準法（以下「法」という。）の定めに関する次の記述のうち、誤っているものを1つ選びなさい。なお、解答にあたっては、各選択肢に記載されている事項以外は考慮しないものとする。

1. 平均賃金とは、これを算定すべき事由の発生した日以前3ヵ月間にその労働者に対し支払われた賃金の総額を、その期間の総日数で除した金額をいう。
2. 法で定める労働条件の基準は最低のものであるから、労働関係の当事者は、当事者間の合意がある場合を除き、この基準を理由として労働条件を低下させてはならないことはもとより、その向上を図るように努めなければならない。
3. 労働者が、退職の場合において、使用期間、業務の種類、その事業における地位、賃金又は退職の事由（退職の事由が解雇の場合にあっては、その理由を含む。）について証明書を請求した場合には、使用者は、遅滞なくこれを交付しなければならない。
4. 使用者は、労働者の国籍、信条又は社会的身分を理由として、賃金、労働時間その他の労働条件について、差別的取扱をしてはならない。

問 19 労働基準法（以下「法」という。）に定める労働時間及び休日等に関する次の記述のうち、誤っているものを1つ選びなさい。なお、解答にあたっては、各選択肢に記載されている事項以外は考慮しないものとする。

1. 使用者は、当該事業場に、労働者の過半数で組織する労働組合がある場合においてはその労働組合、労働者の過半数で組織する労働組合がない場合においては労働者の過半数を代表する者との書面による協定をし、これを行政官庁に届け出た場合においては、法定労働時間又は法定休日に関する規定にかかわらず、その協定で定めるところによって労働時間を延長し、又は休日に労働させることができる。
2. 使用者は、災害その他避けることのできない事由によって、臨時の必要がある場合においては、行政官庁の許可を受けて、その必要の限度において法に定める労働時間を延長し、又は休日に労働させることができる。ただし、事態急迫のために行政官庁の許可を受ける暇がない場合においては、事後に遅滞なく届け出なければならない。
3. 使用者は、2週間を通じ4日以上の日を与える場合を除き、労働者に対して、毎週少なくとも2回の休日を与えなければならない。
4. 使用者が、法の規定により労働時間を延長し、又は休日に労働させた場合においては、その時間又はその日の労働については、通常の労働時間又は労働日の賃金の計算額の2割5分以上5割以下の範囲内でそれぞれ政令で定める率以上の率で計算した割増賃金を支払わなければならない。

問 20 「自動車運転者の労働時間等の改善のための基準」(以下「改善基準告示」という。)に定める一般乗用旅客自動車運送事業以外の旅客自動車運送事業に従事する自動車運転者(以下「バス運転者」という。)の拘束時間等についての次の文中、A、B、C、Dに入るべき字句としていずれか正しいものを1つ選びなさい。

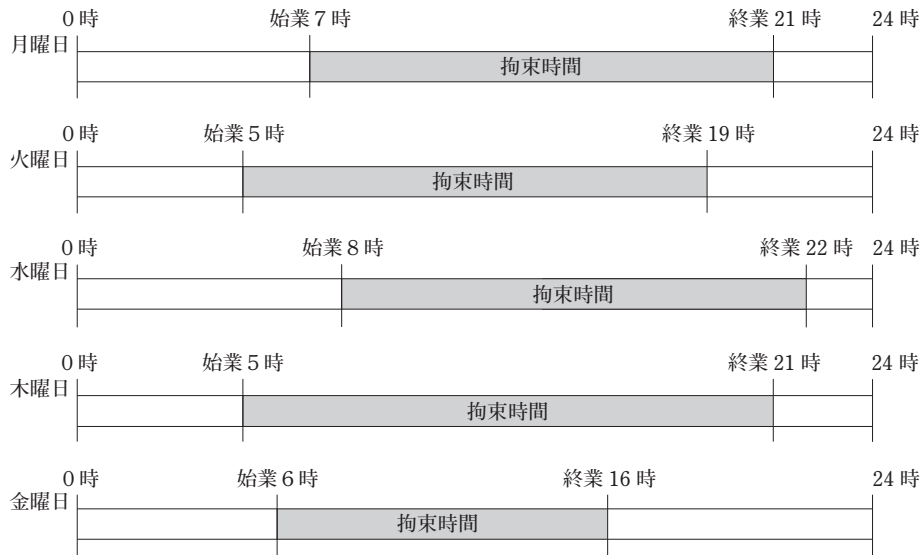
1. 労使当事者は、時間外労働協定においてバス運転者に係る一定期間についての延長時間について協定するに当たっては、当該一定期間は、(A)及び(B)以内の一定の期間とするものとする。
2. 使用者は、バス運転者に労働基準法第35条の休日に労働させる場合は、当該労働させる休日は(C)について(D)を超えないものとし、当該休日の労働によって改善基準告示第5条第1項に定める拘束時間及び最大拘束時間の限度を超えないものとする。

- A ① 2週間 ② 4週間
B ① 1ヵ月以上3ヵ月 ② 3ヵ月以上6ヵ月
C ① 2週間 ② 4週間
D ① 1回 ② 2回

問 21 「自動車運転者の労働時間等の改善のための基準」に定める一般乗用旅客自動車運送事業以外の旅客自動車運送事業に従事する自動車運転者(以下「バス運転者」という。)の拘束時間等に関する次の記述のうち、正しいものを2つ選びなさい。なお、解答にあたっては、各選択肢に記載されている事項以外は考慮しないものとする。

1. 拘束時間とは、始業時間から終業時間までの時間で、休憩時間を除く労働時間の合計をいう。
2. 使用者は、バス運転者の休息期間については、当該バス運転者の住所地における休息期間がそれ以外の場所における休息期間より長くなるように努めるものとする。
3. 連続運転時間(1回が連続10分以上で、かつ、合計が30分以上の運転の中断をすることなく連続して運転する時間をいう。)は、4時間を超えないものとする。
4. 使用者は、業務の必要上、バス運転者(1人乗務の場合)に勤務の終了後連続8時間以上の休息期間を与えることが困難な場合には、当分の間、一定期間における全勤務回数の2分の1を限度に、休息期間を拘束時間の途中及び拘束時間の経過直後に分割して与えることができるものとする。この場合において、分割された休息期間は、1日(始業時刻から起算して24時間をいう。)において1回当たり連続4時間以上、合計8時間以上でなければならないものとする。

問 22 下図は、一般貸切旅客自動車運送事業に従事する自動車運転者の1週間の勤務状況の例を示したものであるが、「自動車運転者の労働時間等の改善のための基準」(以下「改善基準告示」という。)に定める拘束時間等に関する次の記述のうち、誤っているものを1つ選びなさい。ただし、すべて1人乗務の場合とする。なお、解答にあたっては、下図に示された内容及び各選択肢に記載されている事項以外は考慮しないものとする。



注) 土曜日及び日曜日は休日とする。

- 1日についての拘束時間が改善基準告示に定める最大拘束時間に違反する勤務がある。
- 勤務終了後の休息期間が改善基準告示に違反するものがある。
- 1日についての拘束時間が15時間を超えることができる1週間についての回数は、改善基準告示に違反している。
- 木曜日に始まる勤務の1日についての拘束時間は、この1週間の勤務の中で1日についての拘束時間が最も長い。

問 23 下表は、一般貸切旅客自動車運送事業に従事する自動車運転者の5日間の運転時間の例を示したものであるが、5日間すべての日を特定日とした2日を平均し1日当たりの運転時間が「自動車運転者の労働時間等の改善のための基準」に違反しているものをすべて選びなさい。

1.

	休日	1日目	2日目	3日目	4日目	5日目	休日
運転時間	—	10時間	7時間	11時間	10時間	8時間	—

2.

	休日	1日目	2日目	3日目	4日目	5日目	休日
運転時間	—	7時間	8時間	9時間	10時間	9時間	—

3.

	休日	1日目	2日目	3日目	4日目	5日目	休日
運転時間	—	8時間	9時間	10時間	9時間	8時間	—

4.

	休日	1日目	2日目	3日目	4日目	5日目	休日
運転時間	—	10時間	9時間	9時間	9時間	10時間	—

5. 実務上の知識及び能力

問 24 旅客自動車運送事業の事業用自動車の運転者に対する点呼の実施等に関する次の記述のうち、適切なものには「適」を、適切でないものには「不適」を記入しなさい。なお、解答にあたっては、各選択肢に記載されている事項以外は考慮しないものとする。

1. 運行管理者は、乗務開始及び乗務終了後の運転者に対し、原則、対面で点呼を実施しなければならないが、遠隔地で乗務が開始又は終了する場合、車庫と営業所が離れている場合、又は運転者の出庫・帰庫が早朝・深夜であり、点呼を行う運行管理者が営業所に出勤していない場合等、運行上やむを得ず、対面での点呼が実施できないときには、電話、その他の方法で行っている。
2. 3日間にわたる事業用自動車の運行で、2日目は遠隔地の乗務のため、乗務後の点呼については、目的地への到着予定時刻が運行管理者等の勤務時間外となることから、乗務途中の休憩時間を利用して運行管理者等が営業所に勤務する時間帯に携帯電話により行い、所定の事項を点呼記録表に記録した。
3. 輸送の安全及び旅客の利便の確保に関する取組が優良であると認められる営業所に属する運転者が、当該営業所の車庫において、当該営業所の運行管理者による国土交通大臣が定めた機器を使用して行う旅客IT点呼を受けた。
4. 乗務前の点呼においてアルコール検知器を使用するのは、身体に保有している酒気帯びの有無を確認するためのものであり、道路交通法施行令で定める呼気中のアルコール濃度1リットル当たり0.15ミリグラム以上であるか否かを判定するためのものではない。

問 25 旅客自動車運送事業者が事業用自動車の運転者に対して行う指導・監督に関する次の記述のうち、適切なものをすべて選びなさい。なお、解答にあたっては、各選択肢に記載されている事項以外は考慮しないものとする。

1. 自動車が追越しをするときは、前の自動車の走行速度に応じた追越し距離、追越し時間が必要になるため、前の自動車と追越しをする自動車の速度差が大きい場合には追越しに長い時間と距離が必要になることから、無理な追越しをしないよう指導した。
2. ある運転者が、昨年今年と連続で追突事故を起こしたので、運行管理者は、ドライブレコーダーの映像等をもとに事故の原因を究明するため、専門的な知識及び技術を有する外部機関に事故分析を依頼し、その結果に基づき指導した。
3. 1人ひとりの運転者が行う日常点検や運転行動は、慣れとともに、各動作を漫然と行ってしまふことがある。その行動や作業を確実に実施させるために、「指差呼称」や「安全呼称」を習慣化することで事故防止に有効であるという意識を根付かせるよう指導した。
4. 令和元年中に発生したハイヤー・タクシーが第1当事者となった人身事故のうち、出会い頭の事故は追突事故と同程度に多く、全体の約2割を占めている。出会い頭の事故を防止するために、交差点における安全確認、見通しの悪い箇所での一時停止の確実な履行等を徹底するよう指導した。

問 26 事業用自動車の運転者の健康管理に関する次の記述のうち、適切なものには「適」を、適切でないものには「不適」を記入しなさい。なお、解答にあたっては、各選択肢に記載されている事項以外は考慮しないものとする。

1. 事業者は、深夜業（22時～5時）を含む業務に常時従事する運転者に対し、法令に定める定期健康診断を6ヵ月以内ごとに1回、必ず、定期的に受診させるようにしている。
2. 一部の運転者から、事業者が指定する医師による定期健康診断ではなく他の医師による当該健康診断に相当する健康診断を受診し、その結果を証明する書面を提出したい旨の申し出があったが、事業者はこの申し出を認めなかった。
3. 事業者は、脳血管疾患の予防のため、運転者の健康状態や疾患につながる生活習慣の適切な把握・管理に努めるとともに、法令により義務づけられている定期健康診断において脳血管疾患を容易に発見することができることから、運転者に確実に受診させている。
4. 事業者は、運転者が軽症度の睡眠時無呼吸症候群（SAS）と診断された場合は、残業を控えるなど業務上での負荷の軽減や、睡眠時間を多く取る、過度な飲酒を控えるなどの生活習慣の改善によって、業務が可能な場合があるので、医師と相談して慎重に対応している。

問 27 交通事故防止対策に関する次の記述のうち、適切なものには「適」を、適切でないものには「不適」を記入しなさい。なお、解答にあたっては、各選択肢に記載されている事項以外は考慮しないものとする。

1. 交通事故は、そのほとんどが運転者等のヒューマンエラーにより発生するものである。したがって、事故惹起運転者の社内処分及び再教育に特化した対策を講ずることが、交通事故の再発を未然に防止するには最も有効である。そのためには、発生した事故の要因の調査・分析を行うことなく、事故惹起運転者及び運行管理者に対する特別講習を確実に受講させる等、ヒューマンエラーの再発防止を中心とした対策に努めるべきである。
2. ドライブレコーダーは、事故時の映像だけでなく、運転者のブレーキ操作やハンドル操作などの運転状況を記録し、解析することにより運転のクセ等を読み取ることができるものがあり、運行管理者が行う運転者の安全運転の指導に活用されている。
3. いわゆる「ヒヤリ・ハット」とは、運転者が運転中に他の自動車等と衝突又は接触するおそれなどがあつたと認識した状態をいい、1件の重大な事故（死亡・重傷事故等）が発生する背景には多くのヒヤリ・ハットがあるとされており、このヒヤリ・ハットを調査し減少させていくことは、交通事故防止対策に有効な手段となっている。
4. 適性診断は、運転者の運転能力、運転態度及び性格等を客観的に把握し、運転の適性を判定することにより、運転に適さない者を運転者として選任しないようにするためのものであり、ヒューマンエラーによる交通事故の発生を未然に防止するための有効な手段となっている。

Copyright (C) 2018 公報社 All Rights Reserved.

問 28 自動車の運転の際に車に働く自然の力等に関する次の文中、A、B、Cに入るべき字句としていずれか正しいものを1つ選びなさい。

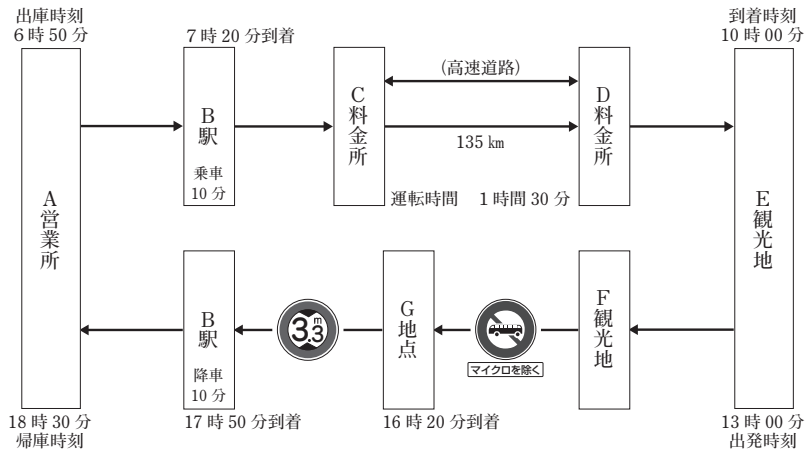
1. 同一速度で走行する場合、カーブの半径が（A）ほど遠心力は大きくなる。
2. まがり角やカーブでハンドルを切った場合、自動車の速度が2倍になる遠心力（B）になる。
3. 自動車が衝突するときの衝撃力は、車両総重量が2倍になると（C）になる。

A ① 小さい ② 大きい

B ① 2倍 ② 4倍

C ① 2倍 ② 4倍



問 29 旅行者から下の運送依頼を受けて、A営業所の運行管理者が次のとおり運行の計画を立てた。この計画に関するア～イについて解答しなさい。なお、解答にあたっては、＜運行の計画＞及び各選択肢に記載されている事項以外は考慮しないものとする。



＜旅行者からの運送依頼＞

- B駅で観光客27名を乗車させE観光地に10時に到着させる。
- 13時にE観光地で観光を終えた乗客を乗せ、F観光地を回り、17時50分にB駅に到着させる。

＜運行の計画＞

- 次の運行経路図に示された経路に従い運行する。
- この運行には運転者1名、バスガイド1名が乗務する。
- 道路標識等により最高速度が指定されていない高速自動車国道（高速自動車国道法に規定する道路。以下「高速道路」という。）のC料金所とD料金所間（走行距離135キロメートル）を、運転の中断をすることなく1時間30分で走行する。
- 運行するF観光地とG地点間の道路には  が、G地点とB駅間の道路には  の道路標識が設置されているので、これらを勘案して通行可能な貸切バスを配置する。
(道路標識は、「文字及び記号を青色、斜めの帯及び枠を赤色、縁及び地を白色とする。）」

ア 当該運行に適した車両として、次の1～3の貸切バスの中から正しいものを1つ選びなさい。

貸切バス	乗車定員(人)	車両重量(kg)	車両総重量(kg)	自動車の大きさ(m)		
				長さ	幅	高さ
1	47	12,930	15,515	11.99	2.49	3.75
2	29	9,900	11,495	8.99	2.49	3.30
3	29	6,390	7,985	6.99	2.05	2.63

イ 高速道路のC料金所とD料金所間の運転時間を1時間30分としたことについて、次の1～2の中から正しいものを1つ選びなさい。

- 1. 適切
- 2. 不適切

問 30 貸切バス事業の営業所の運行管理者は、旅行業者から下の運送依頼を受けて、次のとおり運行の計画を立てた。国土交通省で定めた「貸切バスの交替運転者の配置基準」（以下「配置基準」という。）等に照らし、この計画を立てた運行管理者の判断に関する1～3の記述の中から正しいものをすべて選びなさい。なお、解答にあたっては、＜運行の計画＞及び各選択肢に記載されている事項以外は考慮しないものとする。

（旅行業者からの運送依頼）

ハイキングツアー客（以下「乗客」という。）38名を乗せ、A地点を23時25分に出発し、D目的地に翌日の4時20分に到着する。その後、E目的地を13時40分に出発し、G地点に18時30分に到着する。

＜運行の計画＞

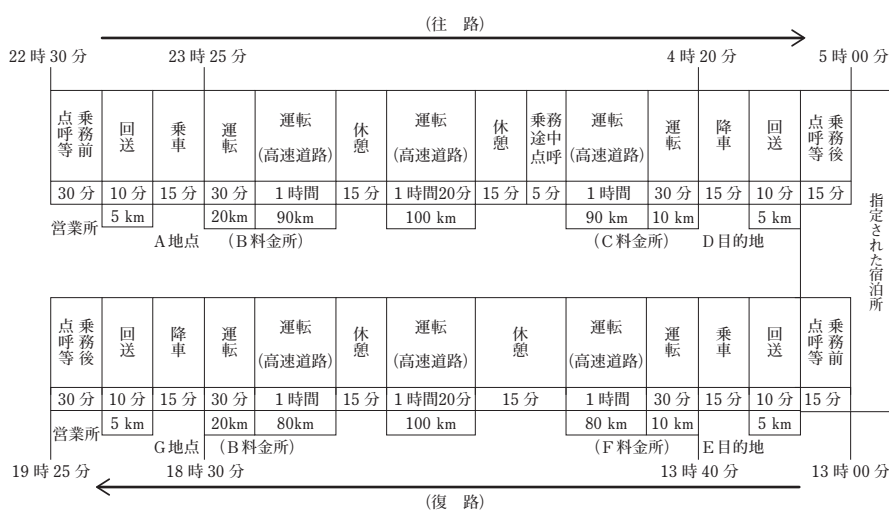
ア デジタル式運行記録計を装着した乗車定員45名の貸切バスを使用する。運転者は1人乗務とする。

イ 運転者は、本運行の開始前10時間の休息をとった後、始業時刻である22時30分に乗務前点呼を受け、点呼後23時に営業所を出発する。A地点において乗客を乗せた後23時25分にD目的地に向け出発する。途中の高速道路のパーキングエリアにて、2回の休憩をとり乗務途中点呼後に、D目的地には翌日の4時20分に到着する。

乗客を降ろした後、当該運転者は、指定された宿泊所に向かい、当該宿泊所において電話による乗務後点呼を受けた後、5時00分に往路の業務を終了し、8時間休息する。

ウ 13時00分に電話による乗務前点呼を受け、13時15分に出発し、E目的地において乗客を乗せた後13時40分にG地点に向け出発する。復路も高速道路等を運転し、2回の休憩をはさみ、G地点には18時30分に到着する。

乗客を降ろした後、運転者は、18時55分に営業所に帰庫し、乗務後点呼の後、19時25分に終業し、翌日は休日とする。



1. 当該運行計画の1日における実車距離は、配置基準に定める限度に違反していないと判断したこと。
2. 1日における運転時間は、配置基準に定める限度に違反していないと判断したこと。
3. 往路運行の実車運行区間の途中における休憩の確保は、配置基準に定める限度に違反していないと判断したこと。