

運行管理者試験問題（貨物）

- ・問題は全30問です。
- ・問題の内容は基本的に出題時のままになっています。
- ・解説の法令は令和2年度第2回（令和3年3月）実施日の内容となっています。
- ・このデータの著作権は放棄していません。再配布、販売等は認めておりません。

1. 貨物自動車運送事業法関係

問 1 一般貨物自動車運送事業者（以下「事業者」という。）の事業計画の変更に関する次の記述のうち、正しいものを2つ選びなさい。なお、解答にあたって、各選択肢に記載されている事項以外は考慮しないものとする。

1. 事業者は、「主たる事務所の名称及び位置」の事業計画の変更をしたときは、遅滞なくその旨を、国土交通大臣に届け出なければならない。
2. 事業者は、「各営業所に配置する事業用自動車の種別ごとの数」の事業計画の変更をしたときは、遅滞なくその旨を、国土交通大臣に届け出なければならない。
3. 事業者は、「自動車車庫の位置及び収容能力」の事業計画の変更をするときは、あらかじめその旨を、国土交通大臣に届け出なければならない。
4. 事業者は、運賃及び料金（個人（事業として又は事業のために運送契約の当事者となる場合におけるものを除く。）を対象とするものに限る。）、運送約款その他国土交通省令で定める事項を主たる事務所その他の営業所において公衆に見やすいように掲示しなければならない。

問 2 次の記述のうち、貨物自動車運送事業の運行管理者の行わなければならない業務として誤っているものを1つ選びなさい。なお、解答にあたっては、各選択肢に記載されている事項以外は考慮しないものとする。

1. 運転者に対して、法令の規定により点呼を行い、報告を求め、確認を行い、及び指示をしたときは、運転者ごとに点呼を行った旨、報告、確認及び指示の内容並びに法令で定める所定の事項を記録し、かつ、その記録を1年間保存すること。
2. 事業用自動車に係る事故が発生した場合には、法令の規定により「事故の発生場所」等の所定の事項を記録し、及びその記録を3年間保存すること。
3. 事業用自動車に備えられた非常信号用具及び消火器の取扱いについて、当該事業用自動車の乗務員に対する適切な指導を行うこと。
4. 休憩又は睡眠のための時間及び勤務が終了した後の休息のための時間が十分に確保されるように、国土交通大臣が告示で定める基準に従って、運転者の勤務時間及び乗務時間を定め、当該運転者にこれらを遵守させること。

問 3 貨物自動車運送事業輸送安全規則に定める貨物自動車運送事業者の過労運転の防止についての次の文中、A、B、C、Dに入るべき字句としていずれか正しいものを1つ選びなさい。

1. 一般貨物自動車運送事業者等は、事業計画に従い業務を行うに必要な員数の事業用自動車の運転者（以下「運転者」という。）を常時選任しておかなければならず、この場合、選任する運転者は、日々雇い入れられる者、(A) 以内の期間を定めて使用される者又は試みの使用期間中の者（14日を超えて引き続き使用されるに至った者を除く。）であってはならない。
2. 貨物自動車運送事業者は、運転者及び事業用自動車の運転の補助に従事する従業員（以下「乗務員」という。）が有効に利用することができるように、休憩に必要な施設を整備し、及び乗務員に睡眠を与える必要がある場合にあっては睡眠に必要な施設を整備し、並びにこれらの施設を、(B) しなければならない。
3. 貨物自動車運送事業者は、乗務員の (C) に努め、疾病、疲労、睡眠不足その他の理由により安全な運転をし、又はその補助をすることができないおそれがある乗務員を事業用自動車に乗務させてはならない。
4. 一般貨物自動車運送事業者等は、運転者が長距離運転又は夜間の運転に従事する場合であって、(D) により安全な運転を継続することができないおそれがあるときは、あらかじめ、当該運転者と交替するための運転者を配置しておかなければならない。

- | | | |
|---|----------------|---------------|
| A | ① 1ヵ月 | ② 2ヵ月 |
| B | ① 維持するための要員を確保 | ② 適切に管理し、及び保守 |
| C | ① 運転履歴の把握 | ② 健康状態の把握 |
| D | ① 疲労等 | ② 酒気帯び |

問 4 貨物自動車運送事業の事業用自動車の運転者（以下「運転者」という。）に対する点呼に関する次の記述のうち、正しいものをすべて選びなさい。なお、解答にあたっては、各選択肢に記載されている事項以外は考慮しないものとする。

1. 乗務前の点呼は、対面（運行上やむを得ない場合は電話その他の方法）により行われなければならない。ただし、輸送の安全の確保に関する取組が優良であると認められる営業所において、貨物自動車運送事業者が点呼を行う場合にあっては、当該事業者は、国土交通大臣が定めた機器による点呼を行うことができる。
2. 運転者が所属する営業所において、対面により乗務前の点呼を行う場合は、法令の規定により酒気帯びの有無について、運転者の顔色、呼気の臭い、応答の声の調子等を目視等により確認するほか、当該営業所に備えられたアルコール検知器を用いて確認を行わなければならない。
3. 2日間にわたる運行（1日目の乗務が営業所以外の遠隔地で終了し、2日目の乗務開始が1日目の乗務を終了した地点となるもの。）については、1日目の乗務後の点呼及び2日目の乗務前の点呼のいずれも対面で行うことができないことから、2日目の乗務については、乗務前の点呼及び乗務後の点呼（乗務後の点呼は対面で行う。）のほかに、当該乗務途中において少なくとも1回電話その他の方法により点呼（中間点呼）を行わなければならない。
4. 乗務終了後の点呼においては、「道路運送車両法第47条の2第1項及び第2項の規定による点検（日常点検）の実施又はその確認」について報告を求め、及び確認を行わなければならない。

Copyright (C) 2018 公報出版 All Rights Reserved.

問 5 自動車事故に関する次の記述のうち、一般貨物自動車運送事業者が自動車事故報告規則に基づき運輸支局長等に速報を要するものを2つ選びなさい。なお、解答にあたっては、各選択肢に記載されている事項以外は考慮しないものとする。

1. 事業用自動車の運転者が一般道路を走行中、ハンドル操作を誤り積載されたコンテナを落下させた。
2. 事業用自動車、交差点で信号待ちで停車していた乗用車の発見が遅れ、ブレーキをかける間もなく追突した。この事故で、当該事業用自動車の運転者が30日の医師の治療を要する傷害を負うとともに、追突された乗用車の運転者1人が死亡した。
3. 事業用自動車は高速道路を走行中、前方に渋滞により乗用車が停止していることに気づくのが遅れ、追突事故を引き起こした。この事故で、乗用車に乗車していた5人が重傷（自動車事故報告規則で定める傷害をいう。）を負い、当該高速道路の通行が2時間禁止された。
4. 消防法に規定する危険物である灯油を積載した事業用のタンク車が、運搬途中の片側1車線の一般道のカーブ路においてハンドル操作を誤り、転覆し、積み荷の灯油の一部がタンクから漏えいする単独事故を引き起こした。この事故で、当該タンク車の運転者が軽傷を負った。

問 6 一般貨物自動車運送事業者（以下「事業者」という。）の事業用自動車の運行等の記録に関する次の記述のうち、誤っているものを1つ選びなさい。なお、解答にあたっては、各選択肢に記載されている事項以外は考慮しないものとする。

1. 事業者は、法令の規定により運行指示書を作成した場合には、当該運行指示書及びその写しを、運行の終了の日から1年間保存しなければならない。
2. 事業用自動車の運転者の乗務について、道路交通法に規定する交通事故若しくは自動車事故報告規則に規定する事故又は著しい運行の遅延その他の異常な事態が発生した場合にあっては、その概要及び原因を「乗務等の記録」に記録させ、かつ、その記録を1年間保存すること。
3. 事業者は、特別積合せ貨物運送に係る運行系統に配置する事業用自動車に係る運転者の乗務について、運行記録計による記録を行わなければならない。
4. 事業者が、貨物自動車運送事業輸送安全規則に定める「事故の記録」として記録しなければならない事故とは、死者又は負傷者を生じさせたものと定められており、物損事故については、当該記録をしなければならないものに該当しない。

問 7 次の記述のうち、一般貨物自動車運送事業者の事業用自動車の運転者（以下「運転者」という。）が遵守しなければならない事項として正しいものを2つ選びなさい。なお、解答にあたっては、各選択肢に記載されている事項以外は考慮しないものとする。

1. 運転者は、①乗務を開始しようとするとき、②乗務前及び乗務後の点呼のいずれも対面で行うことができない乗務の途中、③乗務を終了したときは、法令に規定する点呼を受け、事業者 に所定の事項について報告をすること。
2. 運転者は、踏切を通過するときは変速装置を操作しないで通過しなければならないが、また、事業用自動車の故障等により踏切内で運行不能となったときは、速やかに列車に対し適切な防護措置をとること。
3. 運転者は、乗務を終了して他の運転者と交替するときは、交替する運転者に対し、当該乗務に係る事業用自動車、道路及び運行の状況について通告すること。この場合において、交替して乗務する運転者は、当該通告を受け、当該事業用自動車の制動装置、走行装置その他の重要な装置の機能について異常のおそれがあると認められる場合には、点検すること。
4. 運転者は、運行指示書の作成を要する運行の途中において、運行の経路並びに主な経過地における発車及び到着の日時に変更が生じた場合には、営業所の運行指示書の写しをもって、運転者が携行している運行指示書への当該変更内容の記載を省略することができる。

問 8 一般貨物自動車運送事業者（以下「事業者」という。）の貨物の積載等に関する次の記述のうち、誤っているものを1つ選びなさい。なお、解答にあたっては、各選択肢に記載されている事項以外は考慮しないものとする。

1. 事業者は、車両総重量が8トン以上又は最大積載量が5トン以上の普通自動車である事業用自動車に乗務した場合にあっては、貨物の積載状況を当該乗務を行った運転者ごとに乗務等の記録をさせなければならない。
2. 事業者は、事業用自動車に貨物を積載するときに偏荷重が生じないように積載するとともに、運搬中に荷崩れ等により事業用自動車から落下することを防止するため、貨物にロープ又はシートを掛けること等必要な措置を講じなければならないとされている。この措置を講じなければならないとされる事業用自動車は、車両総重量が8トン以上又は最大積載量が5トン以上のものに限られる。
3. 事業者は、運送条件が明確でない運送の引受け、運送の直前若しくは開始以降の運送条件の変更、荷主の都合による集貨地点等における待機又は運送契約によらない附帯業務の実施に起因する運転者の過労運転又は過積載による運送その他の輸送の安全を阻害する行為を防止するため、荷主と密接に連絡し、及び協力して、適正な取引の確保に努めなければならない。
4. 国土交通大臣は、事業者が過積載による運送を行ったことにより、貨物自動車運送事業法の規定による命令又は処分をする場合において、当該命令又は処分に係る過積載による運送が荷主の指示に基づき行われたことが明らかであると認められ、かつ、当該事業者に対する命令又は処分のみによっては当該過積載による運送の再発を防止することが困難であると認められるときは、当該荷主に対しても、当該過積載による運送の再発の防止を図るため適当な措置を執るべきことを勧告することができる。

2. 道路運送車両法関係

問 9 道路運送車両法の自動車の登録等についての次の記述のうち、誤っているものを1つ選びなさい。なお、解答にあたっては、各選択肢に記載されている事項以外は考慮しないものとする。

1. 登録自動車について所有者の変更があったときは、新所有者は、その事由があった日から15日以内に、国土交通大臣の行う移転登録の申請をしなければならない。
2. 登録自動車の所有者は、当該自動車が滅失し、解体し（整備又は改造のために解体する場合を除く。）、又は自動車の用途を廃止したときは、その事由があった日（使用済自動車の解体である場合には解体報告記録がなされたことを知った日）から15日以内に、永久抹消登録の申請をしなければならない。
3. 自動車登録番号標及びこれに記載された自動車登録番号の表示は、国土交通省令で定めるところにより、自動車登録番号標を自動車の前面及び後面の任意の位置に確実に取り付けることよって行うものとする。
4. 何人も、国土交通大臣若しくは封印取付受託者が取付けをした封印又はこれらの者が封印の取付けをした自動車登録番号標は、これを取り外してはならない。ただし、整備のため特に必要があるときその他の国土交通省令で定めるやむを得ない事由に該当するときは、この限りでない。

経公論出版

問 10 道路運送車両法の自動車の検査等についての次の記述のうち、正しいものを2つ選びなさい。なお、解答にあたっては、各選択肢に記載されている事項以外は考慮しないものとする。

1. 自動車運送事業の用に供する自動車は、自動車検査証を当該自動車又は当該自動車の所属する営業所に備え付けなければ、運行の用に供してはならない。
2. 自動車は、その構造が、長さ、幅及び高さ並びに車両総重量（車両重量、最大積載量及び55キログラムに乗車定員を乗じて得た重量の総和をいう。）等道路運送車両法に定める事項について、国土交通省令で定める保安上又は公害防止その他の環境保全上の技術基準に適合するものでなければ、運行の用に供してはならない。
3. 車両総重量8トン以上又は乗車定員30人以上の自動車の使用者は、スペアタイヤの取付状態等について、1ヵ月ごとに国土交通省令で定める技術上の基準により自動車を点検しなければならない。
4. 自動車検査証の有効期間の起算日については、自動車検査証の有効期間が満了する日の1ヵ月前（離島に使用の本拠の位置を有する自動車を除く。）から当該期間が満了する日までの間に継続検査を行い、当該自動車検査証に有効期間を記入する場合は、当該自動車検査証の有効期間が満了する日の翌日とする。

問 11 道路運送車両法に定める自動車の点検整備等に関する次の文中、A、B、C、Dに入るべき字句としていずれか正しいものを1つ選びなさい。

1. 事業用自動車の使用者は、自動車の点検をし、及び必要に応じ（A）をすることにより、当該自動車を道路運送車両の保安基準に適合するように維持しなければならない。
2. 事業用自動車の使用者又は当該自動車を（B）する者は、1日1回、その（C）において、国土交通省令で定める技術上の基準により、自動車を点検しなければならない。
3. 事業用自動車の使用者は、当該自動車について定期点検整備をしたときは、遅滞なく、点検整備記録簿に点検の結果、整備の概要等所定事項を記載して当該自動車に備え置き、その記載の日から（D）間保存しなければならない。

- A ① 検査 ② 整備
B ① 運行 ② 管理
C ① 運行の開始前 ② 運行の終了後
D ① 1年 ② 2年

問 12 道路運送車両の保安基準及びその細目を定める告示についての次の記述のうち、誤っているものを1つ選びなさい。なお、解答にあたっては、各選択肢に記載されている事項以外は考慮しないものとする。

1. 自動車（二輪自動車等を除く。）の空気入ゴムタイヤの接地部は滑り止めを施したものであり、滑り止めの溝は、空気入ゴムタイヤの接地部の全幅にわたり滑り止めのために施されている凹部（サイピング、プラットフォーム及びウエア・インジケータの部分を除く。）のいずれの部分においても1.6ミリメートル以上の深さを有すること。
2. 乗用車等に備える事故自動緊急通報装置は、当該自動車が発生等による衝撃を受ける事故が発生した場合において、その旨及び当該事故の概要を所定の場所に自動的かつ緊急に通報するものとして、機能、性能等に関し告示で定める基準に適合するものでなければならない。
3. 貨物の運送の用に供する普通自動車であって、車両総重量が7トン以上のものの後面には、所定の後部反射器を備えるほか、反射光の色、明るさ等に関し告示で定める基準に適合する大型後部反射器を備えなければならない。
4. 自動車に備えなければならない非常信号用具は、夜間150メートルの距離から確認できる赤色の灯光を発するものでなければならない。

3. 道路交通法関係

問 13 道路交通法に定める灯火及び合図等についての次の記述のうち、誤っているものを1つ選びなさい。なお、解答にあたっては、各選択肢に記載されている事項以外は考慮しないものとする。

1. 車両の運転者が同一方向に進行しながら進路を左方又は右方に変えるときの合図を行う時期は、その行為をしようとする地点から30メートル手前の地点に達したときである。
2. 車両の運転者が左折又は右折するときの合図を行う時期は、その行為をしようとする地点（交差点においてその行為をする場合にあつては、当該交差点の手前の側端）から30メートル手前の地点に達したときである。（環状交差点における場合を除く。）
3. 車両は、トンネルの中、濃霧がかかっている場所その他の場所で、視界が高速自動車国道及び自動車専用道路においては200メートル、その他の道路においては50メートル以下であるような暗い場所を通行する場合及び当該場所に停車し、又は駐車している場合においては、前照灯、車幅灯、尾灯その他の灯火をつけなければならない。
4. 停留所において乗客の乗降のため停車していた乗合自動車が発進するため進路を変更しようとして手又は方向指示器により合図をした場合においては、その後方にある車両は、その速度又は方向を急に変更しなければならないこととなる場合を除き、当該合図をした乗合自動車の進路の変更を妨げてはならない。

経公論出版
Copyright © 2018 経公論出版

問 14 道路交通法に定める停車及び駐車等についての次の記述のうち、正しいものを2つ選びなさい。なお、解答にあたっては、各選択肢に記載されている事項以外は考慮しないものとする。

1. 車両は、人の乗降、貨物の積卸し、駐車又は自動車の格納若しくは修理のため道路外に設けられた施設又は場所の道路に接する自動車用の出入口から5メートル以内の道路の部分においては、駐車してはならない。
2. 車両は、法令の規定により駐車しようとする場合には、当該車両の右側の道路上に3メートル（道路標識等により距離が指定されているときは、その距離）以上の余地があれば駐車してもよい。
3. 車両は、交差点の側端又は道路の曲がり角から5メートル以内の道路の部分においては、法令の規定若しくは警察官の命令により、又は危険を防止するため一時停止する場合のほか、停車し、又は駐車してはならない。
4. 車両は、踏切の前後の側端からそれぞれ前後に10メートル以内の道路の部分においては、法令の規定若しくは警察官の命令により、又は危険を防止するため一時停止する場合のほか、停車し、又は駐車してはならない。

問 15 道路交通法に定める自動車の法定速度に関する次の文中、A、B、C、Dに入るべき字句を下の枠内の選択肢（①～⑤）から選びなさい。

1. 自動車の最高速度は、道路標識等により最高速度が指定されていない片側一車線の一般道路においては、(A)である。
2. 自動車の最低速度は、法令の規定によりその速度を減ずる場合及び危険を防止するためやむを得ない場合を除き、道路標識等により自動車の最低速度が指定されていない区間の高速自動車国道の本線車道（政令で定めるものを除く。）においては、(B)である。
3. 貸切バス（乗車定員47名）の最高速度は、道路標識等により最高速度が指定されていない高速自動車国道の本線車道（政令で定めるものを除く。）においては、(C)ある。
4. トラック（車両総重量12,000キログラム、最大積載量8,000キログラムであって乗車定員3名）の最高速度は、道路標識等により最高速度が指定されていない高速自動車国道の本線車道（政令で定めるものを除く。）においては、(D)である。

- | | |
|---------------|--------------|
| ① 時速40キロメートル | ② 時速50キロメートル |
| ③ 時速60キロメートル | ④ 時速80キロメートル |
| ⑤ 時速100キロメートル | |

問 16 貨物自動車に係る道路交通法に定める乗車、積載及び過積載（車両に積載をする積載物の重量が法令による制限に係る重量を超える場合における当該積載。以下同じ。）等についての次の記述のうち、誤っているものを1つ選びなさい。なお、解答にあたっては、各選択肢に記載されている事項以外は考慮しないものとする。

1. 自動車の使用者は、その者の業務に関し、自動車の運転者に対し、道路交通法第57条（乗車又は積載の制限等）第1項の規定に違反して政令で定める積載物の重量、大きさ又は積載の方法の制限を超えて積載をして運転することを命じ、又は自動車の運転者がこれらの行為をすることを容認してはならない。
2. 車両（軽車両を除く。）の運転者は、当該車両について政令で定める乗車人員又は積載物の重量、大きさ片しくは積載の方法の制限を超えて乗車をさせ、又は積載をして車両を運転してはならない。ただし、当該車両の出発地を管轄する警察署長による許可を受けてもっぱら貨物を運搬する構造の自動車の荷台に乗車させる場合にあっては、当該制限を超える乗車をさせて運転することができる。
3. 警察署長は、荷主が自動車の運転者に対し、過積載をして自動車を運転することを要求するという違反行為を行った場合において、当該荷主が当該違反行為を反復して行うおそれがあると認めるときは、内閣府令で定めるところにより、当該自動車の運転者に対し、当該過積載による運転をしてはならない旨を命ずることができる。
4. 積載物の長さは、自動車（大型自動二輪車及び普通自動二輪車を除く。以下同じ。）の長さにその長さの10分の1の長さを加えたものを超えてはならず、積載の方法は、自動車の車体の前後から自動車の長さの10分の1の長さを超えてはみ出してはならない。

問 17 道路交通法に定める運転者及び使用者の義務等についての次の記述のうち、正しいものを2つ選びなさい。なお、解答にあたっては、各選択肢に記載されている事項以外は考慮しないものとする。

1. 車両等の運転者は、児童、幼児等の乗降のため、道路運送車両の保安基準に関する規定に定める非常点滅表示灯をつけて停車している通学通園バスのを通過するときは、徐行して安全を確認しなければならない。
2. 車両等の運転者は、高齢の歩行者でその通行に支障のあるものが通行しているときは、一時停止し、又は徐行して、その通行を妨げないようにしなければならない。
3. 車両等に積載している物が道路に転落し、又は飛散したときは、必ず道路管理者に通報するものとし、当該道路管理者からの指示があるまでは、転落し、又は飛散した物を除去してはならない。
4. 自動車の運転者は、故障その他の理由により高速自動車国道等の本線車道若しくはこれに接する加速車線、減速車線若しくは登坂車線（以下「本線車道等」という。）において当該自動車を運転することができなくなったときは、政令で定めるところにより、当該自動車が故障その他の理由により停止しているものであることを表示しなければならない。ただし、本線車道等に接する路肩若しくは路側帯においては、この限りでない。

4. 労働基準法関係

問 18 労働基準法（以下「法」という。）の定めに関する次の記述のうち、誤っているものを1つ選びなさい。なお、解答にあたっては、各選択肢に記載されている事項以外は考慮しないものとする。

1. 平均賃金とは、これを算定すべき事由の発生した日以前3ヵ月間にその労働者に対し支払われた賃金の総額を、その期間の総日数で除した金額をいう。
2. 法で定める労働条件の基準は最低のものであるから、労働関係の当事者は、当事者間の合意がある場合を除き、この基準を理由として労働条件を低下させてはならないことはもとより、その向上を図るように努めなければならない。
3. 労働者が、退職の場合において、使用期間、業務の種類、その事業における地位、賃金又は退職の事由（退職の事由が解雇の場合にあっては、その理由を含む。）について証明書を請求した場合には、使用者は、遅滞なくこれを交付しなければならない。
4. 使用者は、労働者の国籍、信条又は社会的身分を理由として、賃金、労働時間その他の労働条件について、差別的取扱をしてはならない。

問 19 労働基準法（以下「法」という。）に定める労働時間及び休日等に関する次の記述のうち、誤っているものを1つ選びなさい。なお、解答にあたっては、各選択肢に記載されている事項以外は考慮しないものとする。

1. 使用者は、当該事業場に、労働者の過半数で組織する労働組合がある場合においてはその労働組合、労働者の過半数で組織する労働組合がない場合においては労働者の過半数を代表する者との書面による協定をし、これを行政官庁に届け出た場合においては、法定労働時間又は法定休日に関する規定にかかわらず、その協定で定めるところによって労働時間を延長し、又は休日に労働させることができる。
2. 使用者は、災害その他避けることのできない事由によって、臨時の必要がある場合においては、行政官庁の許可を受けて、その必要の限度において法に定める労働時間を延長し、又は休日に労働させることができる。ただし、事態急迫のために行政官庁の許可を受ける暇がない場合においては、事後に遅滞なく届け出なければならない。
3. 使用者は、2週間を通じ4日以上 of 休日を与える場合を除き、労働者に対して、毎週少なくとも2回の休日を与えなければならない。
4. 使用者が、法の規定により労働時間を延長し、又は休日に労働させた場合においては、その時間又はその日の労働については、通常の労働時間又は労働日の賃金の計算額の2割5分以上5割以下の範囲内でそれぞれ政令で定める率以上の率で計算した割増賃金を支払わなければならない。

問 20 「自動車運転者の労働時間等の改善のための基準」(以下「改善基準告示」という。)に定める貨物自動車運送事業に従事する自動車運転者(以下「トラック運転者」という。)の拘束時間等についての次の文中、A、B、C、Dに入るべき字句としていずれか正しいものを1つ選びなさい。

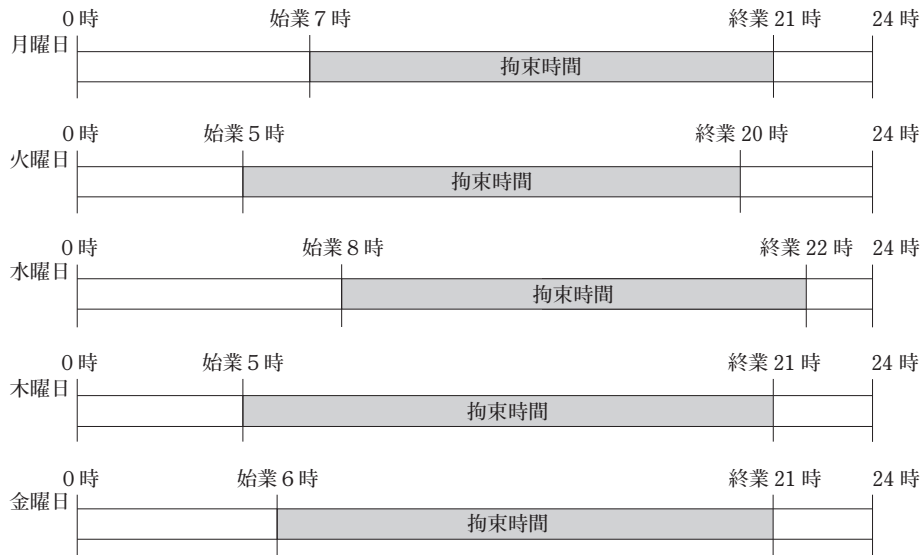
1. 労使当事者は、時間外労働協定においてトラック運転者に係る一定期間についての延長時間について協定するに当たっては、当該一定期間は、(A)及び(B)以内の一定の期間とするものとする。
2. 使用者は、トラック運転者に労働基準法第35条の休日に労働させる場合は、当該労働させる休日は(C)について(D)を超えないものとし、当該休日の労働によって改善基準告示第4条第1項に定める拘束時間及び最大拘束時間の限度を超えないものとする。

- A ① 2週間 ② 4週間
B ① 1ヵ月以上3ヵ月 ② 3ヵ月以上6ヵ月
C ① 2週間 ② 4週間
D ① 1回 ② 2回

問 21 「自動車運転者の労働時間等の改善のための基準」に定める貨物自動車運送事業に従事する自動車運転者(以下「トラック運転者」という。)の拘束時間等に関する次の記述のうち、正しいものを2つ選びなさい。なお、解答にあたっては、各選択肢に記載されている事項以外は考慮しないものとする。

1. 拘束時間とは、始業時間から終業時間までの時間で、休憩時間を除く労働時間の合計をいう。
2. 使用者は、トラック運転者の休息期間については、当該トラック運転者の住所地における休息期間がそれ以外の場所における休息期間より長くなるように努めるものとする。
3. 連続運転時間(1回が連続10分以上で、かつ、合計が30分以上の運転の中断をすることなく連続して運転する時間をいう。)は、4時間を超えないものとする。
4. 使用者は、業務の必要上、トラック運転者(1人乗務の場合)に勤務の終了後連続8時間以上の休息期間を与えることが困難な場合には、当分の間、一定期間における全勤務回数 $\frac{2}{1}$ を限度に、休息期間を拘束時間の途中及び拘束時間の経過直後に分割して与えることができるものとする。この場合において、分割された休息期間は、1日(始業時刻から起算して24時間をいう。)において1回当たり連続4時間以上、合計8時間以上でなければならないものとする。

問 22 下図は、貨物自動車運送事業に従事する自動車運転者の1週間の勤務状況の例を示したものであるが、「自動車運転者の労働時間等の改善のための基準」(以下「改善基準告示」という。)に定める拘束時間等に関する次の記述のうち、誤っているものを1つ選びなさい。ただし、すべて1人乗務の場合とする。なお、解答にあたっては、下図に示された内容及び各選択肢に記載されている事項以外は考慮しないものとする。



注) 土曜日及び日曜日は休日とする。

1. 1日についての拘束時間が改善基準告示に定める最大拘束時間に違反する勤務がある。
2. 勤務終了後の休息期間が改善基準告示に違反するものがある。
3. 1日についての拘束時間が15時間を超えることができる1週間についての回数は、改善基準告示に違反している。
4. 木曜日に始まる勤務の1日についての拘束時間は、この1週間の勤務の中で1日についての拘束時間が最も長い。

問 23 下表は、貨物自動車運送事業に従事する自動車運転者の5日間の運転時間の例を示したものであるが、5日間すべての日を特定日とした2日を平均し1日当たりの運転時間が「自動車運転者の労働時間等の改善のための基準」に違反しているものをすべて選びなさい。

1.

| | 休日 | 1日目 | 2日目 | 3日目 | 4日目 | 5日目 | 休日 |
|------|----|------|-----|------|------|-----|----|
| 運転時間 | — | 10時間 | 7時間 | 11時間 | 10時間 | 8時間 | — |

2.

| | 休日 | 1日目 | 2日目 | 3日目 | 4日目 | 5日目 | 休日 |
|------|----|-----|-----|-----|------|-----|----|
| 運転時間 | — | 7時間 | 8時間 | 9時間 | 10時間 | 9時間 | — |

3.

| | 休日 | 1日目 | 2日目 | 3日目 | 4日目 | 5日目 | 休日 |
|------|----|-----|-----|------|-----|-----|----|
| 運転時間 | — | 8時間 | 9時間 | 10時間 | 9時間 | 8時間 | — |

4.

| | 休日 | 1日目 | 2日目 | 3日目 | 4日目 | 5日目 | 休日 |
|------|----|------|-----|-----|-----|------|----|
| 運転時間 | — | 10時間 | 9時間 | 9時間 | 9時間 | 10時間 | — |

5. 実務上の知識及び能力

問 24 貨物自動車運送事業の事業用自動車の運転者に対する点呼の実施等に関する次の記述のうち、適切なものには「適」を、適切でないものには「不適」を記入しなさい。なお、解答にあたっては、各選択肢に記載されている事項以外は考慮しないものとする。

1. 運行管理者は、乗務開始及び乗務終了後の運転者に対し、原則、対面で点呼を実施しなければならないが、遠隔地で乗務が開始又は終了する場合、車庫と営業所が離れている場合、又は運転者の出庫・帰庫が早朝・深夜であり、点呼を行う運行管理者が営業所に出勤していない場合等、運行上やむを得ず、対面での点呼が実施できないときには、電話、その他の方法で行っている。
2. 3日間にわたる事業用トラックの運行で、2日目は乗務前及び乗務後の点呼を対面で行うことができない乗務のため、携帯電話による乗務前及び乗務後の点呼を実施するほか、携帯電話による中間点呼を1回実施した。
3. 同一の事業者内の輸送の安全の確保に関する取組が優良であると認められる営業所において、A営業所とB営業所間で国土交通大臣が定めた機器を用いて実施するIT点呼については、1営業日のうち連続する18時間以内としている。
4. 乗務前の点呼においてアルコール検知器を使用するのは、身体に保有している酒気帯びの有無を確認するためのものであり、道路交通法施行令で定める呼気中のアルコール濃度1リットル当たり0.15ミリグラム以上であるか否かを判定するためのものではない。

Copyright (C) 2018 公団出版 All Rights Reserved.

問 25 一般貨物自動車運送事業者が事業用自動車の運転者に対して行う指導・監督に関する次の記述のうち、適切なものをすべて選びなさい。なお、解答にあたっては、各選択肢に記載されている事項以外は考慮しないものとする。

1. 自動車が追越しをするときは、前の自動車の走行速度に応じた追越し距離、追越し時間が必要になるため、前の自動車と追越しをする自動車の速度差が大きい場合には追越しに長い時間と距離が必要になることから、無理な追越しをしないよう指導した。
2. ある運転者が、昨年今年と連続で追突事故を起こしたので、運行管理者は、ドライブレコーダーの映像等をもとに事故の原因を究明するため、専門的な知識及び技術を有する外部機関に事故分析を依頼し、その結果に基づき指導した。
3. 1人ひとりの運転者が行う日常点検や運転行動、または固縛作業は、慣れとともに、各動作を漫然と行ってしまうことがある。その行動や作業を確実に実施させるために、「指差呼称」や「安全呼称」を習慣化することで事故防止に有効であるという意識を根付かせるよう指導した。
4. 令和元年中に発生した事業用トラックによる人身事故のうち、追突事故が最も多く全体の約5割を占めており、このうち昼間の時間での追突事故が多く発生している。追突事故を防止するために、適正な車間距離の確保や前方不注意の危険性等に関し指導した。

問 26 事業用自動車の運転者の健康管理に関する次の記述のうち、適切なものには「適」を、適切でないものには「不適」を記入しなさい。なお、解答にあたっては、各選択肢に記載されている事項以外は考慮しないものとする。

1. 事業者は、深夜業（22時～5時）を含む業務に常時従事する運転者に対し、法令に定める定期健康診断を6ヵ月以内ごとに1回、必ず、定期的に受診させるようにしている。
2. 一部の運転者から、事業者が指定する医師による定期健康診断ではなく他の医師による当該健康診断に相当する健康診断を受診し、その結果を証明する書面を提出したい旨の申し出があったが、事業者はこの申し出を認めなかった。
3. 事業者は、脳血管疾患の予防のため、運転者の健康状態や疾患につながる生活習慣の適切な把握・管理に努めるとともに、法令により義務づけられている定期健康診断において脳血管疾患を容易に発見することができることから、運転者に確実に受診させている。
4. 事業者は、運転者が軽症度の睡眠時無呼吸症候群（SAS）と診断された場合は、残業を控えるなど業務上での負荷の軽減や、睡眠時間を多く取る、過度な飲酒を控えるなどの生活習慣の改善によって、業務が可能な場合があるので、医師と相談して慎重に対応している。

問 27 交通事故防止対策に関する次の記述のうち、適切なものには「適」を、適切でないものには「不適」を記入しなさい。なお、解答にあたっては、各選択肢に記載されている事項以外は考慮しないものとする。

1. 交通事故は、そのほとんどが運転者等のヒューマンエラーにより発生するものである。したがって、事故惹起運転者の社内処分及び再教育に特化した対策を講ずることが、交通事故の再発を未然に防止するには最も有効である。そのためには、発生した事故の要因の調査・分析を行うことなく、事故惹起運転者及び運行管理者に対する特別講習を確実に受講させる等、ヒューマンエラーの再発防止を中心とした対策に努めるべきである。
2. ドライブレコーダーは、事故時の映像だけでなく、運転者のブレーキ操作やハンドル操作などの運転状況を記録し、解析することにより運転のクセ等を読み取ることができるものがあり、運行管理者が行う運転者の安全運転の指導に活用されている。
3. いわゆる「ヒヤリ・ハット」とは、運転者が運転中に他の自動車等と衝突又は接触するおそれなどがあつたと認識した状態をいい、1件の重大な事故（死亡・重傷事故等）が発生する背景には多くのヒヤリ・ハットがあるとされており、このヒヤリ・ハットを調査し減少させていくことは、交通事故防止対策に有効な手段となっている。
4. 適性診断は、運転者の運転能力、運転態度及び性格等を客観的に把握し、運転の適性を判定することにより、運転に適さない者を運転者として選任しないようにするためのものであり、ヒューマンエラーによる交通事故の発生を未然に防止するための有効な手段となっている。

Copyright (C) 2018 公報出版 All Rights Reserved.

問 28 自動車の運転の際に車に働く自然の力等に関する次の文中、A、B、Cに入るべき字句としていずれか正しいものを1つ選びなさい。

1. 同一速度で走行する場合、カーブの半径が（A）ほど遠心力は大きくなる。
2. まがり角やカーブでハンドルを切った場合、自動車の速度が2倍になると遠心力は（B）になる。
3. 自動車が衝突するときの衝撃力は、車両総重量が2倍になると（C）になる。

A ① 小さい ② 大きい

B ① 2倍 ② 4倍



C ① 2倍 ② 4倍

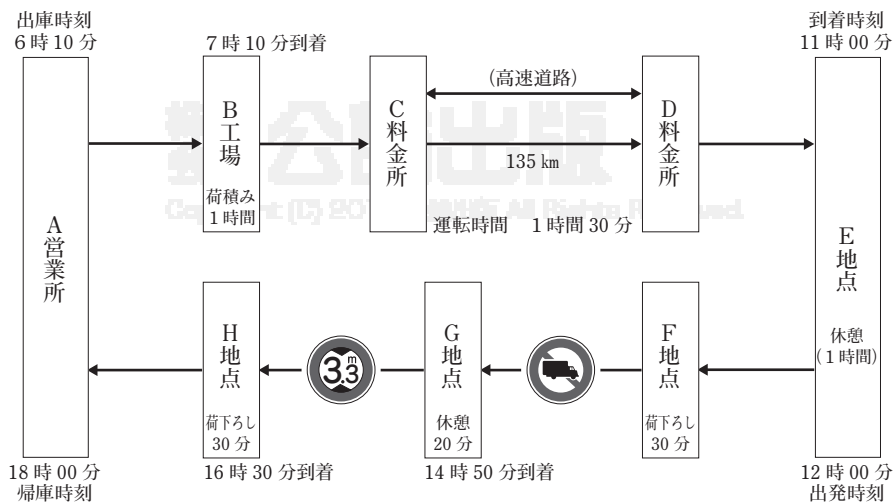
問 29 荷主から下の運送依頼を受けて、A 営業所の運行管理者が次のとおり運行の計画を立てた。この計画に関するア～イについて解答しなさい。なお、解答にあたっては、＜運行の計画＞及び各選択肢に記載されている事項以外は考慮しないものとする。

＜荷主からの運送依頼＞

B 工場で重量が3,000キログラムの電化製品を積み、各拠点（F 地点、H 地点）の配送先まで運送する。

＜運行の計画＞

- 次の運行経路図に示された経路に従い運行する。
- 道路標識等により最高速度が指定されていない高速自動車国道（高速自動車国道法に規定する道路。以下「高速道路」という。）のC料金所とD料金所間（走行距離135キロメートル）を、運転の中断をすることなく1時間30分で走行する。
- F 地点とG 地点間の道路には  が、G 地点とH 地点間の道路には  の道路標識が設置されているので、これらを勘案して通行可能な事業用自動車を配置する。
（道路標識は、「文字及び記号を青色、斜めの帯及び枠を赤色、緑及び地を白色とする。」）



ア 当該運行に適した車両として、次の1～3の事業用自動車の中から正しいものを1つ選びなさい。

| 事業用自動車 | 乗車定員 (人) | 車両重量 (kg) | 最大積載量 (kg) | 車両総重量 (kg) | 自動車の大きさ (m) | | |
|--------|----------|-----------|------------|------------|-------------|------|------|
| | | | | | 長さ | 幅 | 高さ |
| 1 | 2 | 8,600 | 11,200 | 19,910 | 11.99 | 2.49 | 3.14 |
| 2 | 2 | 4,270 | 6,300 | 10,680 | 8.18 | 2.45 | 3.07 |
| 3 | 2 | 3,760 | 3,500 | 7,370 | 7.16 | 2.43 | 3.00 |

イ 高速道路のC料・金所とD料金所間の運転時間を1時間30分としたことについて、次の1～2の中から正しいものを1つ選びなさい。

- 1. 適切
- 2. 不適切

問 30 貨物自動車運送事業者の運行管理者は複数の荷主からの運送依頼を受けて、下のとおり4日にわたる運行計画を立てた。この運行に関する、次の1～3の運行管理者の判断について、正しいものをすべて選びなさい。なお、解答にあたっては、＜4日にわたる運行計画＞及び各選択肢に記載されている事項以外は考慮しないものとする。

＜4日にわたる運行計画＞

| | | | | | | | | | | | | |
|-------|--------|-------------------------------|-----|-----|---|--------|--------|--------|------|--------|--------|--------|
| 前日 | | 当該運行の前日は、この運行を担当する運転者は、休日とする。 | | | | | | | | | | |
| 始業時刻 | 出庫時刻 | | | | | | | | | | 到着時刻 | 終業時刻 |
| 5時00分 | 5時30分 | | | | | | | | | | 21時45分 | 22時00分 |
| 1日目 | 乗務前点呼等 | 運転 | 荷積み | 運転 |  | 運転 | 休憩 | 運転 | 荷下ろし | 運転 | 乗務後点呼等 | 宿泊所 |
| | 30分 | 1時間 | 1時間 | 3時間 | 4時間 | 3時間 | 30分 | 2時間 | 45分 | 1時間 | 15分 | |
| 始業時刻 | 出庫時刻 | | | | | | | | | | 到着時刻 | 終業時刻 |
| 4時00分 | 4時30分 | | | | | | | | | | 17時15分 | 17時30分 |
| 2日目 | 乗務前点呼等 | 運転 | 荷積み | 運転 | 休憩 | 運転 | 中間点呼休憩 | 運転 | 荷下ろし | 運転 | 乗務後点呼等 | 宿泊所 |
| | 30分 | 1時間 | 1時間 | 2時間 | 15分 | 2時間30分 | 1時間 | 2時間30分 | 1時間 | 1時間30分 | 15分 | |
| 始業時刻 | 出庫時刻 | | | | | | | | | | 到着時刻 | 終業時刻 |
| 4時00分 | 4時30分 | | | | | | | | | | 17時15分 | 17時30分 |
| 3日目 | 乗務前点呼等 | 運転 | 荷積み | 運転 | 休憩 | 運転 | 中間点呼休憩 | 運転 | 荷下ろし | 運転 | 乗務後点呼等 | 宿泊所 |
| | 30分 | 1時間 | 1時間 | 2時間 | 15分 | 2時間30分 | 1時間 | 2時間30分 | 1時間 | 1時間30分 | 15分 | |
| 始業時刻 | 出庫時刻 | | | | | | | | | | 到着時刻 | 終業時刻 |
| 6時00分 | 6時30分 | | | | | | | | | | 18時45分 | 19時00分 |
| 4日目 | 乗務前点呼等 | 運転 | 荷積み | 運転 | 休憩 | 運転 | 休憩 | 運転 | 荷下ろし | 運転 | 乗務後点呼等 | |
| | 30分 | 1時間 | 1時間 | 3時間 | 1時間 | 2時間 | 15分 | 2時間 | 1時間 | 1時間 | 15分 | |
| 翌日 | | 当該運行の翌日は、この運行を担当する運転者は、休日とする。 | | | | | | | | | | |

- 1人乗務とした場合、1日についての最大拘束時間及び休息期間が「自動車運転者の労働時間等の改善のための基準」（以下「改善基準告示」という。）に違反すると判断して、当該運行には交替運転者を配置する。
- 1人乗務とした場合、すべての日を特定の日とした場合の2日を平均して1日当たりの運転時間が改善基準告示に違反すると判断して、当該運行には交替運転者を配置する。
- 1人乗務とした場合、連続運転時間が改善基準告示に違反すると判断して、当該運行には交替運転者を配置する。